



Érosion	3e année – Systèmes de la Terre et de l'espace
Document	


Mettez en correspondance la fonction du sol avec la bonne image qui se trouve à la page 2.



Habitat pour les organismes du sol ()



Permet aux plantes de grandir ()



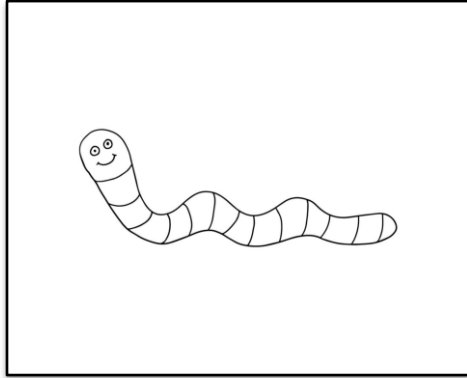
Contrôle les niveaux d'eau ()




Paysage et support de génie ()



Recycle les matières premières ()



A




B



C



D



E

Indiquez les énoncés suivants qui sont **vrais** ou **faux**.

1. Le sol est composé de matières organiques comme les minéraux, l'eau et divers animaux tels que les vers de terre et les taupes.

Vrai

Faux

2. Il y a *quatre* couches principales dans un profil de sol.

Vrai

Faux

3. Le sol recycle les matières premières comme les roches, l'or et les diamants.

Vrai

Faux

4. L'érosion peut être causée par le vent et l'eau.

Vrai

Faux

5. Les arbres ne contribuent pas à ralentir ou à bloquer les précipitations.

Vrai

Faux

6. Les racines d'un arbre aident à unir le sol.

Vrai

Faux

