




## Échelle de dureté de Mohs

Dureté	Résultats observés sur échantillon de minéral	
1 (Talc)	Il est facilement rayé avec l'ongle.	
2 (Gypse)	Il peut être rayé avec l'ongle.	
3 (Calcite)	Elle peut être rayée avec une pièce en cuivre de un cent.	
4 (Fluorite)	Elle est facilement rayée avec un clou.	
5 (Apatite)	Elle peut être rayée avec un clou.	
6 (Orthoclase)	Elle est difficilement rayée avec un clou. Elle raie facilement une plaque de verre.	
7 (Quartz)	Ils peuvent rayer le verre.	
8 (Topaze)		
9 (Corindon)		
10 (Diamant)	Il peut rayer tous les matériaux courants.	

